
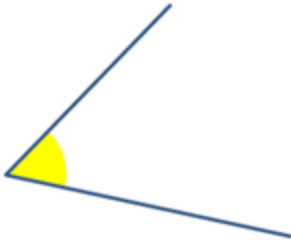


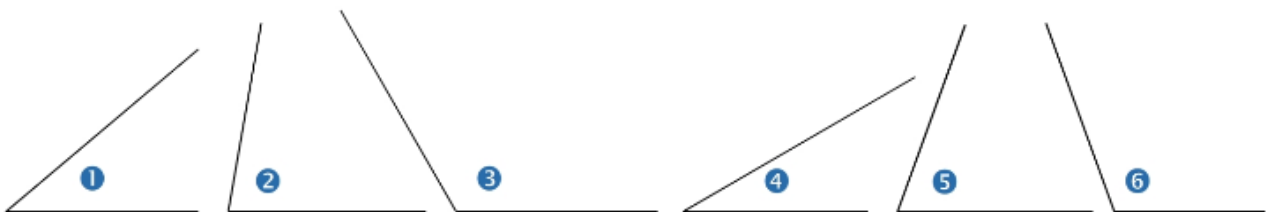
## Chapitre M1 : Activité Séance 3 : Reproduire des angles – Comparer des angles

### Activité 1 : Reproduire un angle à l'aide du compas

Regarde bien la fiche « **Méthode pour reproduire un angle à l'aide du compas** »  
Entraîne-toi à reproduire les angles ci-dessous au compas et à la règle :



### Activité 2 : Comparer des angles :



#### ① A l'œil nu :

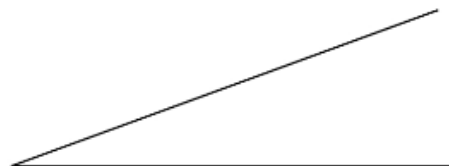
Observe ces six angles et classe-les du plus petit au plus grand.

#### ② A l'aide d'un gabarit :

Découpe l'**angle** ci-contre et découpe-le pour l'utiliser comme **gabarit**.

Pour chacun des 6 angles, combien de fois peux-tu reporter le gabarit?

Cela peut-il t'aider à confirmer ta première impression?



#### ③ A l'aide d'un compas :

En t'inspirant de l'activité 1, propose une méthode pour comparer les angles au compas. Vérifie tes réponses précédentes.